

# Занимательная математика

(познавательное развитие (математика) детей 7-го года жизни)

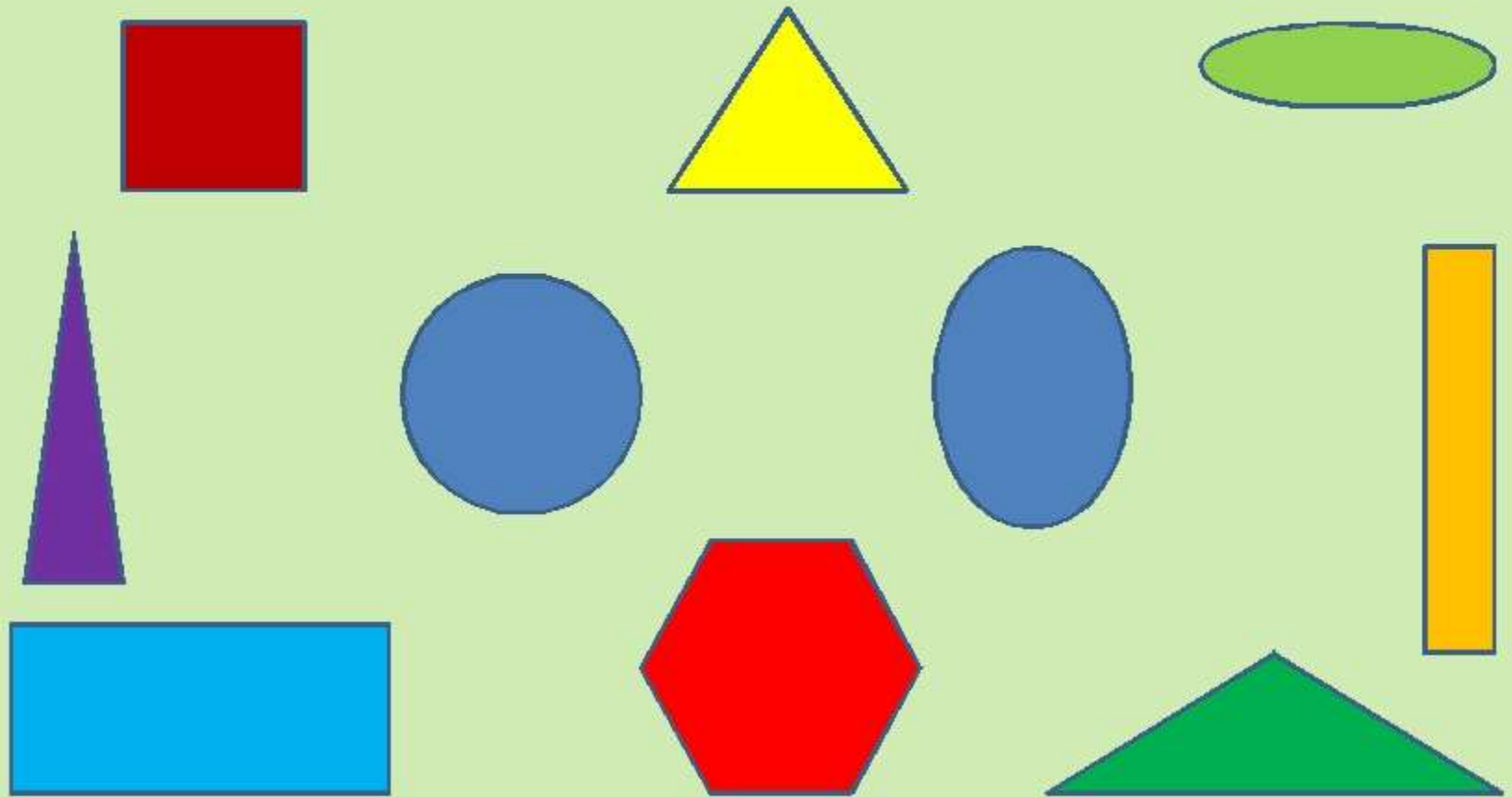


Воспитатели  
Лапкина Л.Н. Маковская В.В.

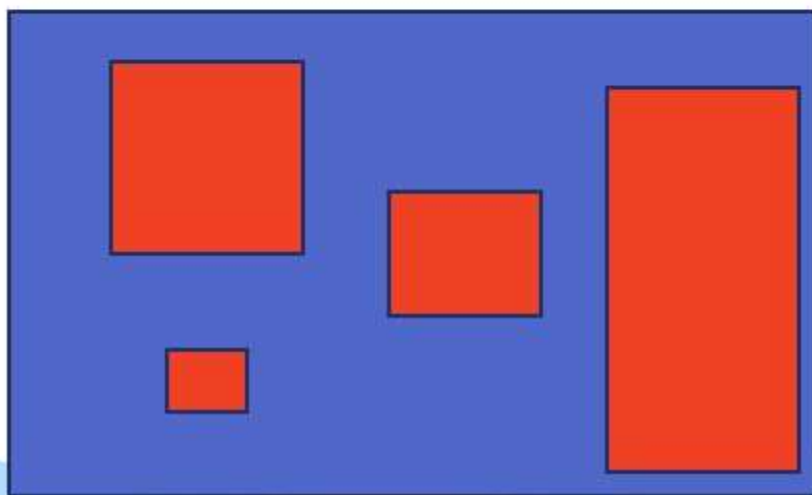


**Начинаем с  
математической  
разминки**



- НАЗОВИ ГЕОМЕТРИЧЕСКИЕ ФИГУРЫ
- КАКИЕ ФИГУРЫ ОТНОСЯТСЯ К МНОГОУГОЛЬНИКАМ?  
СКОЛЬКО ЗДЕСЬ МНОГОУГОЛЬНИКОВ?
- ЧЕМ ОТЛИЧАЮТСЯ КРУГ И ОВАЛ? ЧЕМ ОНИ ПОХОЖИ?



# Помоги найти Карлсону лишнюю фигуру в каждом прямоугольнике



КАКАЯ ФИГУРА РАСПОЛОЖЕНА В ЦЕНТРЕ?

ГДЕ НАХОДИТСЯ ТРЕУГОЛЬНИК?

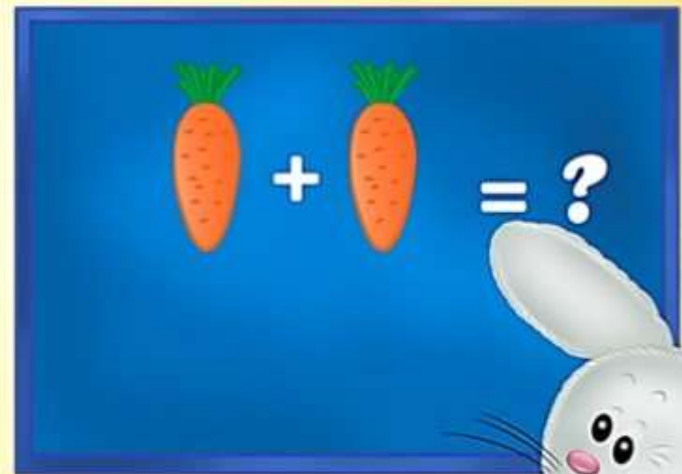
В ЛЕВОМ ВЕРХНЕМ УГЛУ НАХОДИТСЯ ...

ПЯТИУГОЛЬНИК РАСПОЛОЖЕН В ...

КАКОЙ ПРЯМОУГОЛЬНИК НАХОДИТСЯ ВНИЗУ?



Дети, а сейчас  
РЕШАЕМ  
ЗАДАЧИ


$$\text{Carrot} + \text{Carrot} = ?$$




# Яблочки

Яблоки в саду поспели,  
Мы отведать их успели  
Пять румяных, наливных,  
Два с кислинкой.  
Сколько их?

7

8

3



# Белка-мастерица



Ай да белка-мастерица!  
Вяжет деткам рукавицы.  
Извязала три клубка,  
Два лежат ещё пока.  
У кого ответ готов,  
Сколько у неё клубков?



4

1

5



My





## Задачи в стихах

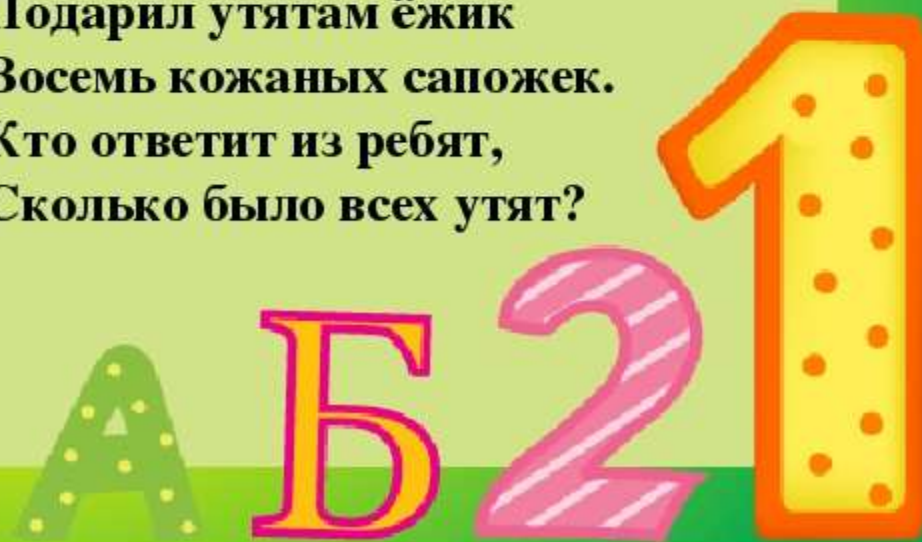


Раз к зайчонку на обед  
Прискакал дружок – сосед.  
На пенёк зайчата сели  
И по пять морковок съели.  
Кто считать, ребята, ловок?  
Сколько съедено морковок?

Как под ёлкой встали в круг  
Зайка, белка и барсук,  
Встали ёжик и енот,  
Лось, кабан, лиса и кот.  
А последним встал медведь,  
Сколько всех зверей? Ответь!




Подарил утятам ёжик  
Восемь кожаных сапожек.  
Кто ответит из ребят,  
Сколько было всех утят?



# Задание на смекалку

Стоит в поле дуб. На дубе 3 ветки. На каждой ветке по 3 яблока. Сколько всего яблок?



---

*Молодцы!*